



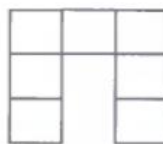
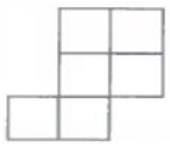
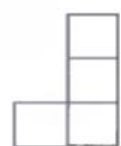
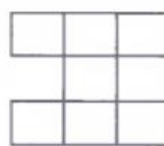



Математическая олимпиада «Математическая карусель»

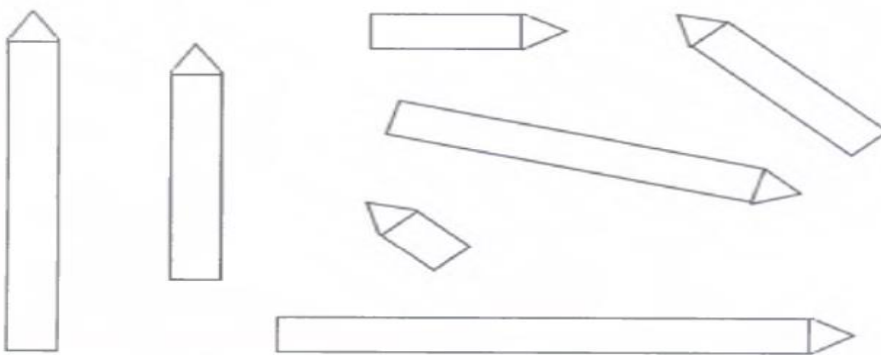
Составь и реши задачи.



Закрась одним цветом фигуры, равные по площади.



Раскрась карандаши в зависимости от их длины.



- 1 см —
- 2 см —
- 3 см —
- 4 см —
- 5 см —
- 6 см —
- 7 см —

Продолжи ряд.



Математическая олимпиада «Математическая карусель»

Который час?



0 1 2 3 4 5 6 7 8 9 10



В пустые клетки вставь нужные знаки.

9 1 = 8

2 7 = 9

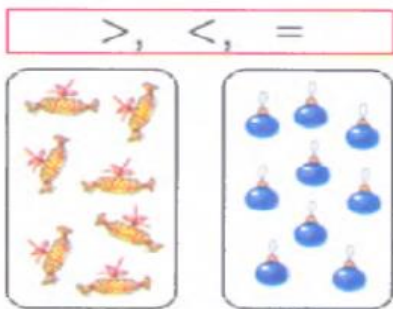

9 4 = 5

5 4 = 9

9 3 = 6

1 8 = 9

Сравни. На сколько больше? На сколько меньше?



Обведи столько цилиндров, сколько на картинке конусов.

